


تدريبات مراجعة لوحة المجسمات الوحدة السادسة

فكرة واعداد الاستاذة:

نهاده حسن مشرفة مركز مصادر التعلم

حكيم ومراجعة:

الاستاذة مروى الراعي/الخبرة التربوية للحلقة الأساسية الأولى





تدريبات على وحدة المجسمات المهارة: التعرف على المجسمات




س1: أسمى المجسمات التالية:



.....



.....



.....


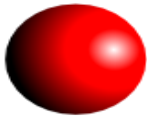


.....



.....

س3: أسمى المجسمات التالية حسب وصفها، وصلها مع صورة المجسم :



1. مجسم له وجهان دائريان هو

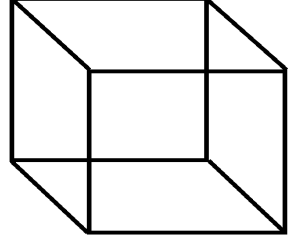
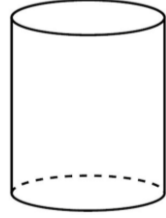


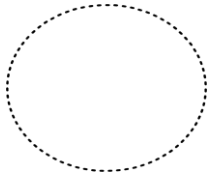
2. مجسم أوجهه جميعها مربعات هو

3. مجسم أوجهه جميعها مستطيلات هو

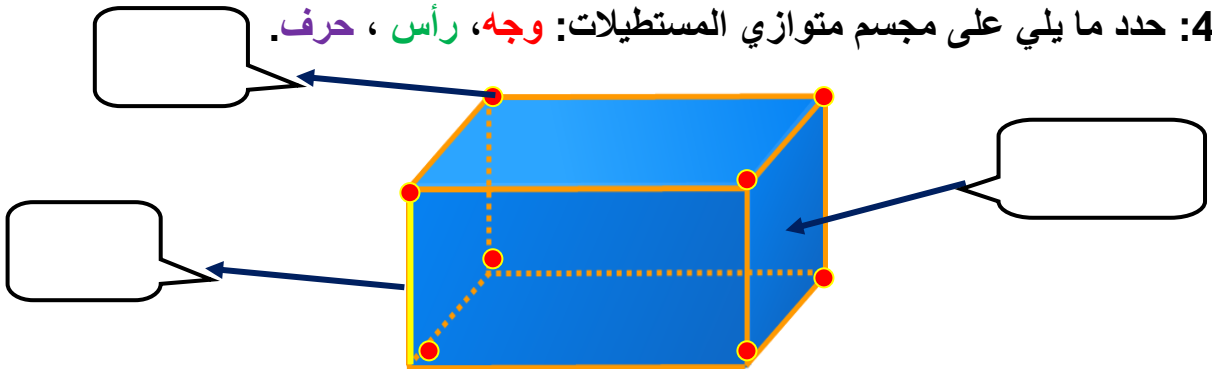
4. مجسم له رأس واحد ووجه دائري واحد هو

تدريبات على وحدة المجسمات
المهارة: التعرف على خصائص المجسمات

س3: أملأ الجدول التالي لكل من المجسمات والأشكال التالية:

شكل الوجه	عدد الأوجه	عدد الأحرف	عدد الرؤوس	اسم المجسم	شكل المجسم
					
					
					
					
					

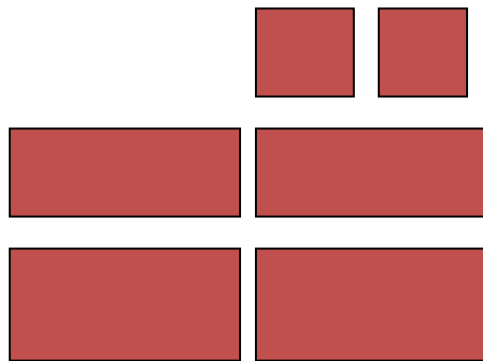
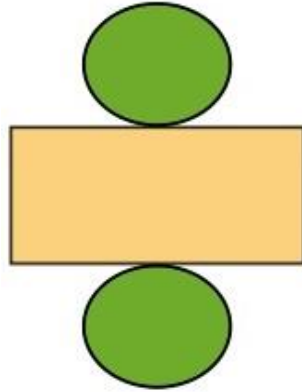

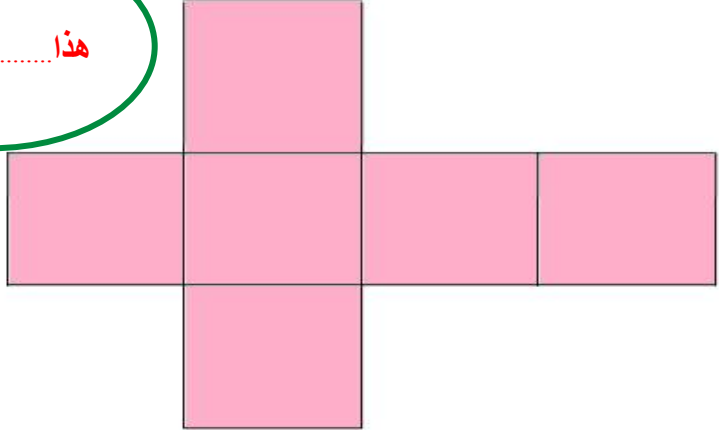

س4: حدد ما يلي على مجسم متوازي المستطيلات: **وجه**، **رأس**، **حرف**.



تدريبات على وحدة المجسمات

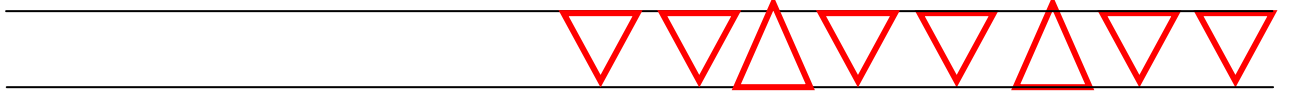
المهارة: تركيب المجسمات

س5: أسمى المجسمات التالية بعد تركيبها:

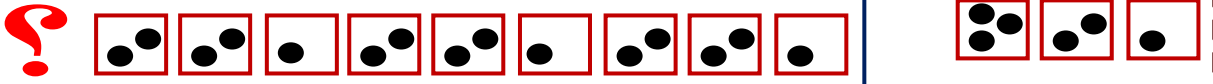


تدريبات على وحدة المجسمات
المهارة: الأنماط

س6: أكمل النمط فيما يلي:



س7: أختار الشكل الذي يجعل النمط صحيحا.



س8: أحصر الخطأ في الأنماط التالية.

